

Texto I

1 A crise financeira que começou há mais de um ano nos Estados Unidos como uma crise no
2 pagamento de hipotecas se alastrou pela economia e contaminou o sistema mundial. (...) Na Europa
3 também há vítimas. E no Brasil? Por aqui, a crise não afeta ninguém diretamente – os bancos dizem
4 não possuir papéis ligados às hipotecas –, mas atinge vários setores por causa da forte contração de
5 crédito.

6 As quebras e os problemas enfrentados por bancos até então considerados importantes e
7 sólidos geraram o que se chama de “crise de confiança”. (...) E, numa economia globalizada, a falta
8 de dinheiro em outro continente afeta empresas no mundo todo.

9 No Brasil, é exatamente este o principal efeito da crise: a dificuldade em se obter dinheiro.
10 Grandes empresas que dependem de financiamento externo passam a encontrar menos linhas de
11 créditos disponíveis, afinal, os bancos têm medo de emprestar em um contexto de crise. (...)

12 Até mesmo os bancos começam a sofrer com a dificuldade de captar recursos no exterior, o
13 que deve fazer os empréstimos ficarem mais caros e mais difíceis também para as pessoas físicas.
14 Por conta disso, as instituições de médio e pequeno porte já tiveram ajuda do governo brasileiro. (...)

15 O BNDES (Banco Nacional de Desenvolvimento Econômico e Social) também já declarou que
16 o banco de fomento conta com dinheiro suficiente até a primeira metade de 2009 para fazer face à
17 escassez de crédito internacional.

18 Por fim, pesa a alta do dólar – em momento de crise, a cotação sobe porque a moeda
19 americana, considerada um investimento seguro, tem mais procura. E o dólar mais caro encarece os
20 importados, o que pressiona a inflação e reduz o poder de compra. (...)

Texto II

1 A crise internacional deverá afetar as decisões por novos investimentos no país, avaliou nesta
2 quinta-feira o Ipea (Instituto de Pesquisa Econômica Aplicada). Para o coordenador da Carta de
3 Conjuntura do órgão, Marcelo Nonnenberg, a alta volatilidade de preços e de fontes de financiamento
4 vai prejudicar, pelo menos por algum tempo, as intenções de investidores em aplicar recursos em
5 novos projetos no Brasil.

6 “A gente espera que as decisões por novos investimentos sejam afetadas por essa crise
7 financeira internacional, até porque ninguém sabe a dimensão e quanto tempo isso vai durar”, afirmou
8 Nonnenberg, que não vê maiores problemas em relação a investimentos já em curso ou definidos. (...)

9 Apesar do quadro turbulento, Nonnenberg disse que nem a crise ou qualquer outro fator,
10 como a política de elevação da taxa de juros, irá impactar de forma significativa o desempenho da
11 economia brasileira em 2008. O Ipea estima que o PIB (Produto Interno Bruto) terá crescimento
12 próximo do teto de 5,2% projetado pelo órgão no início do ano.

13 “Nem a crise internacional e nem outro fator, como a elevação da taxa de juros, vai afetar de
14 forma substancial o crescimento da economia brasileira para 2008. Todas as previsões de
15 crescimento estão sendo revistas para cima, e mantemos nosso teto de 5,2%, e acreditamos que
16 ficará bastante próximo”.

17 Um impacto relevante que o Ipea vislumbra para o ano que vem é sobre as exportações.
18 Diante da “evidente desaceleração da economia internacional”, (...) o desempenho da balança
19 comercial brasileira, que vem piorando nos últimos tempos, deverá ser ainda mais afetado.

20 “As exportações ainda não foram atingidas. Há uma continuidade do dinamismo das
21 exportações. No entanto, elas vêm crescendo estimuladas pela elevação dos preços, e devemos
22 esperar, nos próximos meses, que a redução desses preços atinja nossas exportações e elas
23 comecem a cair”, observou, acrescentando que a alta do dólar pode segurar um pouco essa
24 tendência de queda das vendas externas. (...)

25 O resultado deverá ser a inflação próxima dos 6% ao final do ano, avaliou a economista do
26 órgão, Maria Andréia Peixoto.

<http://www1.folha.uol.com.br/folha/dinheiro> – 23/03/2009.

-
1. A chamada “crise de confiança” (linha 7, texto I), que abalou o mundo todo, deveu-se:
 - A) à elevada alta de inflação na Europa e nos Estados Unidos.
 - B) à quebra das empresas americanas ligadas às pesquisas espaciais.
 - C) aos problemas e à quebra de importante e sólido sistema bancário.
 - D) ao custo excessivo da guerra que os EUA mantêm com o Afeganistão.
 - E) à recessão americana dos Estados do Norte, que são mais industrializados.

 2. Marque a opção que prova que a economia mundial é globalizada.
 - A) “A crise financeira que começou há mais de um ano nos Estados Unidos...” (linha 1, texto I)
 - B) “...a falta de dinheiro em outro continente afeta empresas no mundo todo.” (linhas 7 e 8, texto I)
 - C) “Nem a crise internacional e nem outro fator (...) vai afetar de forma substancial o crescimento da economia brasileira...” (linhas 13 e 14, texto II)
 - D) “...o dólar mais caro encarece os importados, o que pressiona a inflação...” (linhas 19 e 20, texto I)
 - E) “O Ipea estima que o PIB (Produto Interno Bruto) terá crescimento próximo do teto de 5,2%...”(linhas 11 e 12, texto II)

 3. No Brasil, o principal efeito da crise é:
 - A) o gasto do poder público.
 - B) a falta de garantia no emprego.
 - C) a dificuldade de se obter dinheiro.
 - D) a volta da inflação descontrolada.
 - E) a falta de apoio dos bancos de fomento.

 4. Pelo texto I, podemos afirmar corretamente que, para a pessoa física, os empréstimos ficarão mais caros e mais difíceis, porque:
 - A) faltam cruzeiros.
 - B) os bancos estão fechando.
 - C) as indústrias estão demitindo em massa.
 - D) há dificuldade de captar recursos no exterior.
 - E) o nível de emprego das empresas vai diminuir.

 5. Podemos substituir a palavra **volatilidade** (linha 3, texto II), sem que haja mudança de sentido, por:
 - A) competitividade.
 - B) turbulência.
 - C) inconstância.
 - D) anuência.
 - E) ausência.

 6. Analise as seguintes afirmações, em relação à crise, e marque a alternativa correta.
 - I. [Nonnenberg] “...não vê maiores problemas em relação a investimentos já em curso ou definidos.” (linha 8, texto II);
 - II. “...nem a crise ou qualquer outro fator, como a política de elevação da taxa de juros, irá impactar de forma significativa o desempenho da economia brasileira em 2008.” (linhas 9 – 11, texto II);
 - III. “A crise financeira que começou há mais de um ano nos Estados Unidos como uma crise no pagamento de hipotecas se alastrou pela economia e contaminou o sistema mundial.” (linhas 1 e 2, texto I).
 - A) Todas têm o mesmo teor.
 - B) Não há contradição entre elas.
 - C) Apenas uma é positiva, em relação à crise.
 - D) As três têm o mesmo teor, só que dito de forma diferente.
 - E) Apenas uma tem um teor negativo, em relação ao alastramento da crise.

7. Assinale a alternativa em que os pares correspondem, significativamente.
- Por conta disso – por fim (linha 14, texto I, e linha 18, texto I, respectivamente).
 - Até então – por fim (linha 6, texto I, e linha 18, texto I, respectivamente).
 - Até mesmo – pelo menos (linha 12, texto I, e linha 4, texto II, respectivamente).
 - Mas – no entanto (linha 4, texto I, e linha 21, texto II, respectivamente).
 - Apesar do – no entanto (linha 9, texto II, e linha 21, texto II, respectivamente).
8. Segundo o *Dicionário Aurélio*, acrônimo quer dizer “Palavra formada pela primeira letra (ou mais de uma) de cada uma das partes sucessivas de uma locução ou pela maioria dessas partes”. Como exemplos de acrônimos, nos dois textos desta prova, temos Ipea, BNDES e PIB: um com apenas uma letra maiúscula (Ipea), e dois com todas elas (BNDES – PIB). Veja estes outros: INSS, PFL, Iprede. Pela dedução dos exemplos acima, marque a alternativa em que os acrônimos estão corretamente grafados.
- | | | | |
|--------|----|------|-----|
| SUDENE | Pt | Pmdb | TCU |
|--------|----|------|-----|
 - | | | | |
|--------|----|------|-----|
| SUDENE | PT | PMDB | Tcu |
|--------|----|------|-----|
 - | | | | |
|--------|----|------|-----|
| Sudene | PT | PMDB | TCU |
|--------|----|------|-----|
 - | | | | |
|--------|----|------|-----|
| SUDENE | Pt | PMDB | TCU |
|--------|----|------|-----|
 - | | | | |
|--------|----|------|-----|
| Sudene | PT | PMDB | Tcu |
|--------|----|------|-----|
9. Em “Por conta disso” (linha 14, texto I), há uma relação de:
- causa.
 - contraste.
 - concessão.
 - finalidade.
 - consequência.
10. Podemos afirmar, corretamente, que o **o** da linha 7, texto I, quer dizer:
- que.
 - ele.
 - aquilo.
 - quando.
 - aquele.
11. No texto I, os **quês** que possuem a mesma função estão nas linhas:
- 1-7
 - 1-12
 - 1-15
 - 7-12
 - 7-15
12. A afirmação “Nem a crise internacional e nem outro fator, como a elevação da taxa de juros, vai afetar de forma substancial o crescimento da economia brasileira para 2008.” (linhas 13 e 14, texto II) demonstra que:
- o Brasil não é um país globalizado.
 - o país está livre da crise, por ser democrático.
 - a economia brasileira sofrerá pouco com a crise.
 - os países latino-americanos não sofrerão com a crise.
 - o Brasil não interfere em assuntos internacionais que não lhe digam respeito.

-
13. Podemos afirmar que os dois textos:
- A) afirmam que, no Brasil, não haverá impacto da crise americana.
 - B) amenizam a crise no Brasil, e que o crescimento brasileiro deverá ser como o previsto.
 - C) negam que o mundo todo irá sofrer com os problemas gerados pela crise das hipotecas.
 - D) negam qualquer relação da crise americana com o sistema financeiro de habitação americano.
 - E) garantem que o Brasil será um dos países mais atingidos, já que possui fortes relações comerciais com os EUA.
14. O termo **este** (linha 9, texto I) é uma referência, cujo referente é “a dificuldade em se obter dinheiro” (linha 9 – texto I). Marque a alternativa que tenha o referente do termo **isso** (linha 7, texto II).
- A) “maiores problemas” (linha 8, texto II).
 - B) “ninguém sabe a dimensão” (linha 7, texto II).
 - C) “decisões por novos investimentos” (linha 6, texto II).
 - D) “essa crise financeira internacional” (linhas 6 e 7, texto II).
 - E) “investimentos já em curso ou definidos” (linha 8, texto II).

15. Considere o texto abaixo.

“O país saiu arrasado do conflito, perdendo parte do seu território. Os cálculos mais confiáveis indicam que metade da população morreu, caindo de aproximadamente 406 mil habitantes, em 1864, para 231 mil, em 1872. A maioria dos sobreviventes era de velhos, mulheres e crianças. Para alguns, o que explica o conflito foi a megalomania de um ditador; para outros, o imperialismo inglês, enquanto mais recentemente as análises têm se voltado para a compreensão da formação de estados nacionais na região do conflito e a luta entre eles.”

Assinale a alternativa que apresenta, respectivamente, o país e o conflito tratado no texto.

- A) Estados Unidos, Guerra da Secessão.
 - B) Rússia, Segunda Guerra Mundial.
 - C) Paraguai, Guerra do Paraguai.
 - D) França, Revolução Francesa.
 - E) Alemanha, Guerra Franco-Prussiana.
16. “O relatório sobre o Índice de Desenvolvimento Humano (IDH) divulgado a cada ano pelo Programa das Nações Unidas para o Desenvolvimento analisa a qualidade de vida nos diversos países, levando em conta não apenas o dado econômico, mas indicadores sociais, como o grau de alfabetização, a expectativa de vida e a mortalidade infantil. Ao comentar os resultados em artigo na revista *Veja*, o jornalista Roberto Pompeu de Toledo demonstrou surpresa ao observar que o Brasil, ocupando o 65º lugar na classificação, ficava bem atrás de países como a Argentina, no 34º lugar, e Cuba, no 52º lugar, ficando também uma posição atrás da Colômbia e duas da Rússia.”
- “O mundo revisto e corrigido”. *Veja*, 16 de julho de 2003. p.106.

A respeito da surpresa do jornalista, analise as afirmações abaixo.

- I. Em relação à Argentina, surpreende que ocupe tão boa posição mesmo depois da dramática crise econômica que atingiu o país nos últimos anos;
- II. Estar atrás de Cuba e da Rússia surpreende, porque a primeira vive as dificuldades de um embargo econômico, e a segunda tem vivido uma grave crise após a dissolução da economia socialista;
- III. A posição do Brasil em relação à Colômbia surpreende, porque, embora ela seja um país sem grandes problemas políticos e sociais, tem problemas econômicos devido à infertilidade do solo.

Assinale a alternativa correta.

- A) Somente I é verdadeira.
 - B) Somente II é verdadeira.
 - C) Somente III é verdadeira.
 - D) Somente I e II são verdadeiras.
 - E) Somente II e III são verdadeiras.
17. Até 1948, a Coreia constituía um único país. Naquela ocasião, ela dividiu-se: a Coreia do Norte tornou-se comunista, e a Coreia do Sul continuou capitalista. Em 1950, a Coreia do Norte invadiu a Coreia do Sul, e teve início uma guerra chamada “Guerra da Coreia”, que durou até 1953 e teve como resultado:
- A) a vitória da Coreia do Sul, com apoio maciço dos Estados Unidos.
 - B) a intervenção das Nações Unidas na região e a criação de duas zonas submetidas à administração internacional.
 - C) a incorporação da Coreia do Norte pela Coreia do Sul, após pagamento de dívidas de guerra.
 - D) a vitória da Coreia do Norte, com suporte militar da República da China.
 - E) o estabelecimento de um armistício e a criação de uma zona desmilitarizada entre os dois países.

18. "O anúncio oficial de que o *Google* decidiu fazer uma oferta pública inicial de ações causou uma onda de excitação entre os investidores americanos. Estima-se que a oferta atraia 2,7 bilhões de dólares."
Veja, 26 de maio de 2004.

Com relação ao *Google*, é correto afirmar que:

- A) é um portal de busca na Internet com acesso restrito aos assinantes.
B) é um portal, gratuito, de busca na Internet, que tem como fontes de receita a publicidade e venda de tecnologias.
C) é a segunda maior empresa americana do ramo *fast-food*.
D) é a maior empresa de *factoring* da América do Norte.
E) é uma multinacional que atua exclusivamente no ramo de telefonia móvel.
19. Durante uma atividade física de relativa intensidade, o corpo humano transpira devido a uma adaptação que o corpo possui para:
A) aumentar a energia muscular.
B) aumentar o metabolismo.
C) manter o batimento cardíaco.
D) reduzir a temperatura corpórea.
E) reduzir o cansaço muscular.
20. A grande promessa de evolução na ciência agrícola é a engenharia genética e o desenvolvimento de seres vivos transgênicos. Considerando-se essa informação, é correto afirmar que seres transgênicos são:
A) seres resultantes de desenvolvimento embrionário acelerado.
B) seres resultantes de reprodução sexuada com alta variabilidade.
C) organismos que sofreram modificação em seu genoma.
D) microrganismos fixadores de nitrogênio.
E) seres que sofreram seleção natural.
21. Quando se anda descalço no interior de uma casa, em que as paredes, o piso e o ar estão a uma mesma temperatura, sente-se o piso de cimento liso ou cimento queimado mais frio que o de madeira. Isso acontece porque:
A) o cimento e a madeira estão a uma mesma temperatura, mas a sensação de que o cimento está mais frio é um efeito psicológico.
B) o calor irradiado pelo cimento é menor que o irradiado pela madeira.
C) a temperatura do cimento é menor que a da madeira.
D) o cimento armazena menos calor que a madeira.
E) o cimento conduz o calor melhor que a madeira.
22. A produção de energia primária no Brasil está representada no quadro abaixo.

Forma de Energia	Porcentagem Correspondente (%)
Energia Hidráulica	43,1
Derivados de Petróleo	25,3
Derivados de Cana-de-Açúcar	12,7
Lenha	10,8
Gás Natural	5,3
Outros	2,8

Analisando o quadro da produção de energia primária, está correto afirmar que entre as formas de energia, cuja produção participa somente com 2,8%, estão:

- A) carvão vegetal e óleo diesel.
B) energia geotérmica e radioativa.
C) energia das marés e solar.
D) álcool etílico e metanol.
E) gasolina e energia elétrica.

23. A Amazônia brasileira possui uma elevada biodiversidade com mais de 30 mil espécies de plantas, no entanto, já perdeu, nos últimos 20 anos, cerca de 30% de sua cobertura vegetal original, devido aos desmatamentos e queimadas. O monitoramento desses incêndios e desmatamentos é realizado com a utilização de algumas técnicas modernas.

Assinale abaixo quais são as técnicas utilizadas.

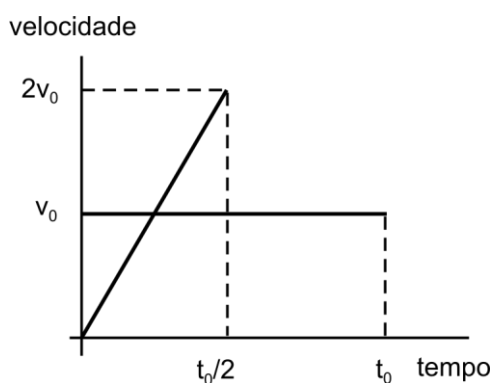
- A) Cadastro de propriedades e de agricultores.
 - B) Sensoriamento remoto e cartografia temática.
 - C) Projeção estatística e informática.
 - D) Fiscalização e cadastramento ambiental.
 - E) Levantamentos da flora e fauna, através de trabalhos de campo.
24. O extrativismo vegetal sempre foi uma atividade produtiva tradicional na economia brasileira, passando por diferentes ciclos econômicos do Período Colonial até o século XX. Atualmente, novas opções econômicas abrem-se para a exploração dos recursos vegetais brasileiros. Assinale, corretamente, a alternativa que destaca essas novas opções.
- A) O desenvolvimento da biotecnologia e da indústria farmacêutica.
 - B) A redução da taxa de exportação de produtos vegetais e o seu beneficiamento industrial.
 - C) A regeneração da vegetação original e o estímulo financeiro ao extrativismo.
 - D) A ampliação da reforma agrária e o estímulo à exportação de produtos vegetais.
 - E) A automatização dos processos extrativistas e o consumo de produtos naturais.
25. Há 30 estudantes em uma determinada classe do Ensino Fundamental. A altura média dos estudantes foi calculada como sendo de 140cm. Depois de calculada essa média, foi observado um erro na medida da altura de um estudante. A medida desse estudante é de 120cm, em vez de 150cm, registrada anteriormente. Qual é a nova e correta altura média dos estudantes dessa classe?
- A) 135cm.
 - B) 136cm.
 - C) 137cm.
 - D) 138cm.
 - E) 139cm.
26. Um torneio de jogo de xadrez utiliza o sistema eliminatório do tipo “perdeu cai fora” e reúne 128 jogadores. Quantas partidas são disputadas durante todo o torneio?
- A) 124
 - B) 125
 - C) 126
 - D) 127
 - E) 128
27. A moto de Paulo está completamente sem combustível. Na garagem, ele encontrou dois tanques de 5 litros, cheios, contendo dois tipos diferentes de combustível. O combustível **A** é gasolina para motores de barcos, contendo 7% de óleo. O combustível **B** é gasolina para máquinas cortadoras de grama, contendo 1% de óleo. Paulo mistura 2 litros do combustível **A** com 2 litros do combustível **B**. Que porcentagem de óleo essa mistura de gasolina contém agora?
- A) 3%
 - B) 4%
 - C) 5%
 - D) 6%
 - E) 7%
28. A Crise de 1929, iniciada nos Estados Unidos, deve ser entendida como:
- A) decorrente da dependência da economia norte-americana em relação à economia mundial.
 - B) consequência do mau planejamento dos economistas adeptos do liberalismo.
 - C) uma crise do sistema capitalista, que, produzindo para o lucro, sem que os consumidores tivessem condições de consumir, provocou uma crise de superprodução.
 - D) uma crise advinda do fato de os produtos serem produzidos em pequena escala e do poder aquisitivo do consumidor ser muito grande, em face do que as mercadorias começam a faltar no mercado.
 - E) um erro na tentativa de recuperação econômica idealizada por Roosevelt e seus assessores diretos.

29. O conceito de Guerra Fria, aplicado às relações internacionais após 1945, significa basicamente:
- o conjunto de lutas travadas pelo povo iraniano contra a dinastia Pahlevi.
 - a formação de blocos econômicos rivais, como o MCE e o Comecon.
 - as disputas diplomáticas entre países árabes e israelenses pela posse da península do Sinai.
 - a rivalidade entre dois blocos antagônicos, liderados pelos EUA e URSS, respectivamente.
 - o conjunto de guerras pela independência nacional ocorridas na Ásia.
30. "(...) nunca certas previsões do marxismo pareceram mais verdadeiras do que hoje: o que não deixa de ser bastante irônico, se considerarmos que isso se dá no momento em que o marxismo está desacreditado como filosofia social."

Quentin Skinner, 1998.

O que permite ao autor sustentar, respectivamente, a tese do descrédito e da validade do marxismo, fundamenta-se:

- no fracasso das experiências socialistas em nosso século e no aumento extraordinário tanto da riqueza quanto da pobreza do mundo.
 - no êxito do capitalismo em eliminar as crises financeiras periódicas e no seu fracasso em fazer diminuir a população mundial.
 - na capacidade do capitalismo para controlar a pobreza e na sua dificuldade para desenvolver tecnologias que resolvessem problemas ambientais.
 - no desaparecimento da luta de classes e na intensificação da concorrência imperialista entre as potências capitalistas.
 - no êxito do capitalismo em globalizar a economia e na incapacidade do *Welfare State* para humanizar o capitalismo.
31. Os veículos **A** e **B** partem, simultaneamente, de um mesmo ponto, em Fortaleza, no tempo $t = 0$ e seguem pela rodovia BR-222 (ver gráfico abaixo). O veículo **A** viajou com velocidade constante v_0 e parou, à altura da cidade de Sobral, no instante $t = t_0$. O veículo **B** partiu do repouso e parou no instante $t = \frac{1}{2}t_0$, quando sua velocidade atingiu o valor $v_B = 2v_0$.



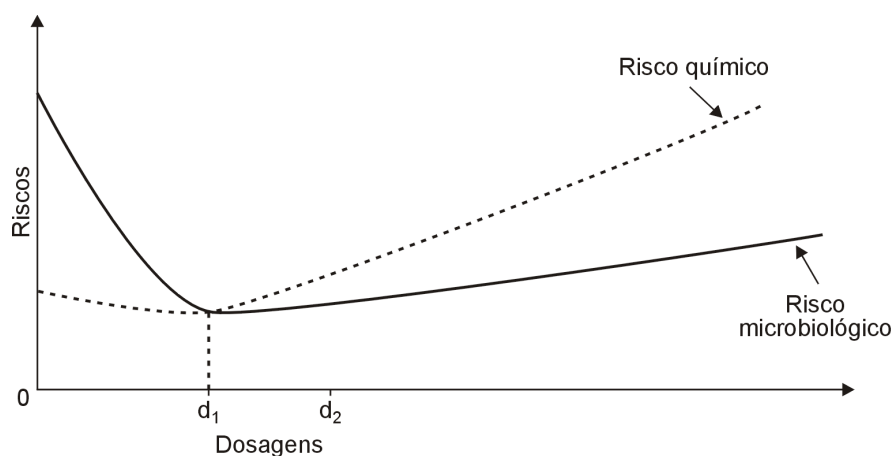
O ponto de parada do veículo **B** está situado, exatamente:

- em Tianguá, depois de Sobral.
 - em Sobral, ao lado do veículo **A**.
 - em Forquilha, alguns quilômetros antes de Sobral.
 - em Caucaia, alguns quilômetros após o ponto de partida.
 - na metade da distância entre Fortaleza e Sobral.
32. Os rios brasileiros, fundamentalmente aqueles que cortam grandes cidades, recebem uma grande quantidade diária de despejos de esgotos industriais e domésticos. Isso tem gerado poluição, acarretando o que chamamos "a morte do rio". Marque a opção que caracteriza um rio não poluído.
- Morte de algas.
 - Ausência de fotossíntese.
 - Grandes concentrações de CO_2 .
 - Alta mortandade de peixes.
 - Boa disponibilidade de oxigênio livre.

33. A solubilidade dos gases na água varia inversamente proporcional à temperatura. O oxigênio dissolvido na água é usado para oxidar a matéria orgânica e para a respiração dos animais. Os peixes necessitam de água que contenham pelo menos 5mg L^{-1} de oxigênio dissolvido para mantê-los vivos.

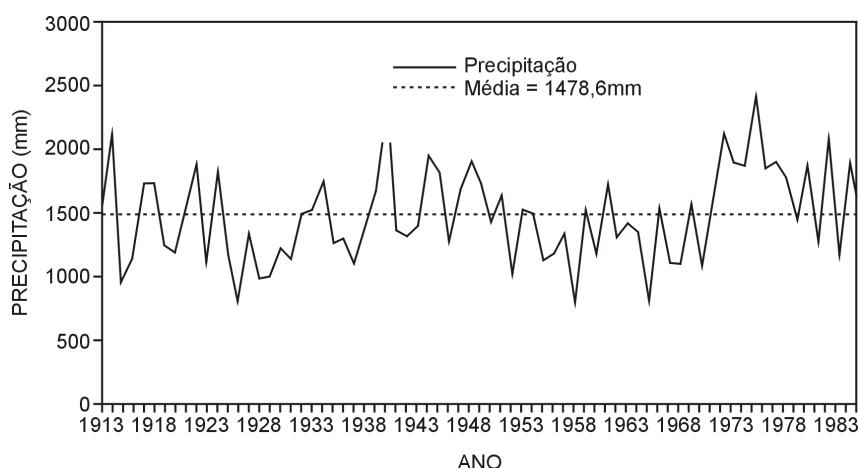
Analisar as afirmativas e marcar a opção correta.

- A) A poluição térmica aumenta a solubilidade dos gases.
B) Águas frias possuem menos oxigênio dissolvido que águas quentes.
C) A descarga de efluentes domésticos aumenta a população de peixes em um rio.
D) Água contém oxigênio em sua molécula, logo sempre existe oxigênio disponível para os peixes.
E) A água usada no arrefecimento das usinas nucleares, despejada em um lago, pode provocar a morte dos peixes.
34. O gráfico a seguir apresenta as curvas que descrevem o **risco químico** e o **risco microbiológico** à saúde humana, em função da dosagem de cloro aplicada à água.



A partir da leitura desse gráfico, é correto afirmar que:

- A) o risco microbiológico decresce com o aumento das dosagens.
B) a dosagem ideal de cloração da água ocorre no ponto d_1 .
C) a dosagem ideal de cloração da água ocorre no ponto d_2 .
D) o risco químico cresce com o aumento das dosagens.
E) a dosagem ideal de cloração da água ocorre em qualquer ponto após d_2 .
35. O gráfico a seguir exprime uma importante série histórica de precipitação pluviométrica ao longo de 70 anos.



A partir da leitura do gráfico, é correto afirmar que:

- A) à medida que os anos passaram, as precipitações diminuíram.
B) nos últimos anos do período em análise, a média das precipitações diminuiu.
C) a maioria das medidas de precipitação é inferior a 1000mm.
D) entre 1953 e 1970, a maioria das medidas ficou abaixo dos 1500mm.
E) a maioria das medidas de precipitação é superior a 2000mm.

DATOS SOBRE LA CRISIS Y EL DESEMPLEO

- Un 50% de los españoles teme perder su empleo actual, aunque no se ven deprimidos, ya que un 62% tiene confianza en que la empresa en la que labora logrará salir adelante. Eso si, no se trata de un optimismo ciego, ya que más de un tercio de ellos confiesa que sus expectativas al respecto son moderadas. Pero no sólo los trabajadores de España sienten como la crisis les afecta en la vida diaria. En el continente europeo los británicos se llevan el premio como los más pesimistas. Sólo un 17% de ellos cree que su compañía logrará salir adelante.
- Holanda e Irlanda son los países en los que se registra un mayor nivel de confianza acerca del futuro laboral de la población. En cuanto a cifras globales, Japón es el país más afectado en cuanto a la moral de los trabajadores.
- Un informe de la OIT sostiene que cerca de 200 millones de trabajadores, en especial en las economías en desarrollo, podrían pasar a integrar las filas de la pobreza extrema. Según Juan Somavia, Director General, “muchos gobiernos son conscientes de la situación y están tomando medidas, pero es necesario emprender acciones más enérgicas y coordinadas para evitar una recesión social mundial. La reducción de la pobreza está en retroceso y las clases medias a nivel global se están debilitando. Las consecuencias políticas y de seguridad son de proporciones gigantescas”.

Textos de Brenda Zaniuk e de Del Campo adaptados de *www.buscarempleo.es*

36. Sobre los datos presentados en el texto, se puede afirmar que:
- A) apenas los españoles creen que la crisis afecta su vida diaria.
 - B) la mitad de los españoles duda acerca de su futuro laboral.
 - C) los españoles son los que más sienten los efectos de la crisis.
 - D) británicos e españoles creen que con la crisis sus empresas irán a bancarrota.
 - E) trabajadores de las economías en desarrollo están adoptando medidas en contra la recesión.
37. En cuanto a los efectos de la crisis en la moral de los trabajadores, es correcto decir que:
- A) la confianza es fuerte entre los holandeses.
 - B) la depresión afecta a los japoneses.
 - C) la moderación es la tónica en Irlanda.
 - D) el pesimismo toca a fondo en Gran Bretaña.
 - E) el derrotismo predomina entre los españoles.
38. Al decir que “no se trata de un optimismo ciego”, el autor sugiere que los españoles son:
- A) fatalistas.
 - B) exagerados.
 - C) insensatos.
 - D) cautelosos.
 - E) desdichosos.
39. A partir de las informaciones del texto, se desprende que:
- A) a nivel global, las clases medias están el alza.
 - B) el número de trabajadores pobres está en descenso.
 - C) se enfrenta a una crisis de desempleo de alcance mundial.
 - D) las economías en desarrollo no se verán afectadas por la crisis.
 - E) la posibilidad de una recesión social mundial es todavía remota.
40. El vocablo **ellos** (subrayado en el texto) se refiere, en el texto, a los:
- A) británicos.
 - B) irlandeses.
 - C) japoneses.
 - D) holandeses.
 - E) españoles.

The text “How will the economic crisis change America?” was posted on the Blog “Economix”, in the *New York Times*, on October 3, 2008. Three readers’ responses posted on the Blog follow it.

Text

HOW WILL THE ECONOMIC CRISIS CHANGE AMERICA?

By R. M. Schneiderman.

<http://economix.blogs.nytimes.com/2008/10/03/how-will-the-economic-crisis-change-america/?scp=10&sq=american%20economic%20crisis&st=cse>

1 The new economic crisis is reshaping the American financial landscape. But what will the long-term
2 cultural and political consequences be?

3 John Willman, a Financial Times editor, writes today that he expects the financial crisis to lead
4 to anti-banker sentiment, “a surge of recruits from the best universities into professions such as
5 teaching, social work and public administration,” and less support for public services, among other
6 things.

7 Meanwhile, Alan Wolfe, a professor of political science at Boston College, argues that we’re
8 unlikely to see a replay of the aftermath of the Great Depression, during which “[a]n entire generation
9 of Americans... voted Democratic, chose Social Security over economic liberty, believed in
10 government, and admired political leadership.” Instead, he thinks that “the partisan polarization that
11 has characterized American politics over the past two decades will continue” and that American
12 democracy is unlikely to fully recover from it. I’m not sure what will ensue. But one thing is for sure:
13 there will almost certainly be some ramifications to our economic turmoil.

14 As Richard Cohen, a columnist for *The Washington Post*, wrote in a recent piece: “An
15 economic crisis is like war. It’s impossible to contain. It affects everything it touches.”

16 Your thoughts?

- 1 -

I believe that what is happening is a good thing. The resilience of the American people will see them through this and bring them out stronger, more knowledgeable about finance and economy and perhaps the USA will start being a net saver rather than a net spender as it currently is.

Rummuser

- 2 -

How does Willman reconcile a “surge of recruits... into professions such as teaching, social work and public administration” with “less support for public services”? I fear that Wolfe is right, and that this time around, we’re more likely to get a Mussolini than a Roosevelt.

Frank

- 3 -

24 Wolfe is missing a point – one doesn’t need an entire population to pass something (and it’s an
25 exaggeration). It’s true that there were many more politically sophisticated and progressive individuals
26 than now. Unfortunately, the right wingers, who fought the New Deal from day 1, have succeeded in
27 dumbing down a couple of generations. It’s difficult to be optimistic when one considers the level
28 education and brainwashing of the population.

Anna

36. According to the text – “How will the economic crisis change America?” – all **but one** is a possible cultural and political consequence of the economic crisis.

- A) An economic crisis affects everything.
- B) There will be less support for public services, among other things.
- C) American democracy is unlikely to fully recover from this economic crisis.
- D) The polarization of parties that has characterized American politics will continue.
- E) Americans will continue to be brainwashed, and the level education will drop.

-
37. Which of the following questions would be best substituted for “Your thoughts?” (line 16) ?
- A) Do you agree with this?
 - B) Do you think about this?
 - C) What’s your opinion about this?
 - D) Do you have an opinion about this?
 - E) Do you have any thoughts about this?
38. With whose opinions does Frank (Response 2) agree with?
- A) Willman’s.
 - B) Wolfe’s.
 - C) Schneiderman’s.
 - D) Both Willman’s and Wolfe’s.
 - E) No one’s.
39. Whose opinion is optimistic?
- A) Frank’s.
 - B) Anna’s.
 - C) Rummuser’s.
 - D) Willman’s.
 - E) Schneiderman’s.
40. How do Frank’s and Anna’s opinions differ?
- A) Both agree with Wolfe’s opinion.
 - B) Neither agrees with Wolfe’s opinion.
 - C) Both agree with Willman’s opinion.
 - D) Neither agrees with Willman’s opinion.
 - E) One agrees with Wolfe’s opinion while the other doesn’t.

